

Q1 स्त्रीलिंग शब्द है:

- (A) सलाद
- (B) सनक
- (C) सारस
- (D) सलाम

www.doonedin.com

Q6 विदेशज शब्द है:

- (A) चश्मा
- (B) जूता
- (C) जीभ
- (D) वायु

Q2 अयादि संधि है:

- (A) उत् + योग
- (B) तथा + एव
- (C) अप् + ज
- (D) नौ + इक

Q7 निम्नलिखित शब्दों में से तद्भव शब्द को पहचानिए:

- (A) नासिका
- (B) बच्चा
- (C) ग्रीष्म
- (D) लक्ष्मी

Answer key Available On: <http://www.doonedin.com/up-forest-guard-answer-key-2018-upsssc-vanrakshak-answer-sheet/>

Q3 अव्ययीभाव समास का उदाहरण है:

- (A) पल – पल
- (B) अन्न – जल
- (C) अंत – अनंत
- (D) धर्मा – धर्म

Q8 चिर/चीर का अर्थ क्या है:

- (A) नया/पुराना
- (B) किला/कास
- (C) पुराना/कपड़ा
- (D) चर/अचर

Q4 विशेषण बताइए:

- (A) क्षम्य
- (B) फेन
- (C) शिक्षा
- (D) भ्रम

Q9 प्राणदा के लिए अनेक शब्द है:

- (A) प्राण रहने का मंत्र
- (B) जीवन देने वाली दवा
- (C) जीवन चाहने वाली राह
- (D) प्राण रहने का अभ्यास

Q5 ब उपसर्ग किसमें है?

- (A) बदबू
- (B) बदौलत
- (C) बदनाम
- (D) बदहजमी

Q10 मिश्र वाक्य है?

- (A) उसने अपना घर लुटा दिया।
- (B) सूरज उगने पर कुहासा फट गया।
- (C) उसके पास जो कुछ था, वह खो गया।
- (D) उसका सब कुछ खो गया।

Q11 सड़के चौड़ी बनाई गई। इस में चौड़ी क्या है?

- (A) सहायक कर्ता
- (B) पूरक
- (C) मुख्य क्रिया
- (D) पूरक कर्ता

Q12 वह क्यों नहीं आया? इसलिए कि वह बीमार था यहाँ 'कि' से क्या बोध होता है?

- (A) अथवा
- (B) जोड़ने का
- (C) कारण
- (D) और

Q13 मध्यकालीन भारतीय आर्यभाषा काल:

- (A) 500 ई. पूर्व से 1000 ई. तक
- (B) 1000 ई. से 21 वीं तक
- (C) 1500 ई. पूर्व से 500 ई. पूर्व तक
- (D) 500 ई. से 1000 ई. तक

Q14 अंतस्थ और उष्म वर्ण कितने हैं:

- (A) 6
- (B) 8
- (C) 9
- (D) 7

Q15 मतैक्य किस संधि का उदाहरण है?

- (A) गुण संधि
- (B) यण संधि
- (C) वृद्धि संधि
- (D) व्यंजन संधि

Q16 भील का स्त्रीलिंग है:

- (A) भालू
- (B) भीलनी
- (C) भिलीनी
- (D) भालना

Q17 धातु के अंत में जोड़े जाने वाले प्रत्यय हैं:

- (A) क्रिया घोटक प्रत्यय
- (B) कृत प्रत्यय
- (C) तद्धित प्रत्यय
- (D) भाव घोटक प्रत्यय

Q18 जयपुरी का स्थानीय नाम है:

- (A) दाशार्णी
- (B) बागडी
- (C) ढूँढाडी
- (D) कुर्माज्चल

Q19 'र' का विवरण है:

- (A) वत्स्य, लुटित, सघोष, अल्पप्राण व्यंजन
- (B) वत्स्य, पार्श्विक, सघोष, महाप्राण व्यंजन
- (C) वत्स्य, संघर्षी, अघोष अल्पप्राण व्यंजन
- (D) वत्स्य, स्पर्श, सघोष, महाप्राण व्यंजन

Q20 उसने एक मुकद्दमा दायर किया। अंग्रेजी में अनुवाद होगा:

- (A) He made a cases in the court.
- (B) He filed a suit.
- (C) He filed a cases against him.
- (D) He filed a guit with him.

Doonedin.com

Q21 ग्रामीण लोग यहाँ अधिकतर निरक्षर हैं। अंग्रेजी में होगा:

- (A) Villagers are illiterate.
- (B) Maximum are illiterate in this village.
- (C) The villagers here mostly are illiterate.
- (D) The villagers here are mostly illiterate.

Q22 The teacher was a man of fearless spirit.

हिन्दी में होगा:

- (A) शिक्षक एक साहसी आत्मा थे।
- (B) शिक्षक एक डरनेवाले आदमी नहीं थे।
- (C) शिक्षक निर्भीक व्यक्ति थे।
- (D) शिक्षक किसी भूत-प्रेत को डरते नहीं थे।

Q23 The magistrate ordered an enquiry.

हिन्दी में होगा:

- (A) जाँच के उद्देश्य से मजिस्ट्रेट का आदेश आया।
- (B) मजिस्ट्रेट ने जाँच के लिए आदेश दिया।
- (C) एक पूछताछ के लिए मजिस्ट्रेट आदेश दिए।
- (D) मजिस्ट्रेट जाँच के लिए आदेश दिए।

Q24 लेखक को क्या बोध हुआ?

- (A) ज्ञान की तीव्र इच्छा
- (B) सौन्दर्य शक्ति
- (C) अनुकूल की चाह
- (D) ज्ञान शक्ति

Q25 लेखक को क्या जरूरत थी?

- (A) जीने की जिन्दगी
- (B) दल-दल की जिन्दगी
- (C) मुक्ति की जिन्दगी
- (D) जिन्दगी की तब्दीली

Q26 राख होने की बात क्या है?

- (A) चेतन शक्ति
- (B) मुक्त हृदय दान
- (C) भक्ति सौन्दर्य
- (D) स्वानुकुल जिन्दगी

Q27 मेरी इच्छा है:

- (A) जिन्दगी अच्छी तरह जीना
- (B) जिन्दगी में जीने का आदेश प्राप्त करना
- (C) दल-दल को पार कर जाना
- (D) दूसरी राह पर पहुँचना

Q28 निम्नलिखित में सकर्मक क्रिया छाँटिए:

- (A) चलना
- (B) सोना
- (C) मुस्कुराना
- (D) लिखना

Q29 कौन सा शब्द अँधकार का पर्यायवाची है।

- (A) तम
- (B) अँधेरा
- (C) अमावस्या
- (D) तिमिर

Q30 सही अर्थवाला शब्द-युग्म कौन सा है?

- (A) आकर-आकार = खान-आकृति
- (B) कुल-कूल = वंश-शीतल
- (C) निर्जर-निर्झर = शून्य-झरना
- (D) शर-सर = बाण-भला आदमी

Q31 'जो कम खर्च करता हो'। इस वाक्यांश के लिए एक शब्द होगा।
(A) कंजूस
(B) लोभी
(C) मितव्ययी
(D) मक्खीचूस

Q32 शुद्ध शब्द कौन-सा है?
(A) चिन्ह
(B) कृप्या
(C) दवाईयाँ
(D) निर्भर

Q33 निम्नलिखित में से कर्ता कारक वाला वाक्य छाँटिए:
(A) मोहन को जाना है।
(B) शीला को रोटी खिलाओ।
(C) शाम को मत आना।
(D) विमा को पुस्तक दे दो।

Q34 निम्नलिखित में से पुलिङ्ग शब्द छाँटिए:
(A) चाहत
(B) रंगत
(C) मेहनत
(D) आहार

Q35 'पति' शब्द का अविभक्तिक बहुवचन होता है:
(A) पतियों
(B) पतीयों
(C) पति
(D) पतिँ

Q36 निम्नलिखित में से निर्देशक चिन्ह कौन-सा है?
(A) ?
(B) ।
(C) '
(D) -

Q37 'सदा एक समान' रहने पर लोकोक्ति प्रयुक्त होती है:
(A) साँच को आँच नहीं
(B) सावन हरे न भादो सूखे
(C) भागते चोर की लंगोटी से ही
(D) सहज पके सो मीठा होय।

Q38 शास्त्रप्रवीण महाविद्यालय में पीतांबर धारण करने आते हैं।
उस वाक्य में तत्पुरुष समास कौन से शब्द पद में है?
(A) शास्त्रप्रवीण
(B) महाविद्यालय
(C) पीतांबर
(D) धारण करके

Q39 Angenda is sent here with के लिए हिन्दी में होगा—
(A) कार्यसूची साथ भेजी जा रही है
(B) तदनुसार सूचित करे
(C) सूची नीचे रखी है
(D) कार्यसूची संलग्न कीजिए

Q40 As mentioned Therein..... के लिए हिन्दी में होगा—
(A) जैसा कि उसमें उल्लेख किया गया है।
(B) यथोक्त विषय
(C) जैसा कि बताया जा चुका है।
(D) समेकित रिपोर्ट प्रस्तुत की जाए।

Q41 काकल्य वर्ण कौन सा है?

- (A) य
- (B) स
- (C) ह
- (D) ण

Q46 कौन सा स्त्रीलिंग शब्द है?

- (A) छाछ
- (B) तिल
- (C) काढ़ा
- (D) टेसू

Q42 'य' का उच्चारण स्थान है :

- (A) ओष्ठ्य
- (B) दाँत
- (C) मूर्धा
- (D) तालु

Q47 कौन सा समुच्चयबोधक अव्यय नहीं है?

- (A) अर्थात्
- (B) अतएव
- (C) अथवा
- (D) आजन्म

Q43 उपसर्ग बातइए:

अतीन्द्रिय

- (A) अति
- (B) अतो
- (C) अ
- (D) अत

Q48 कृताकृत का समास है:

- (A) तत्पुरुष
- (B) अव्ययीभाव
- (C) कर्मधारय
- (D) द्विगु

Q44 अध्याहार का अर्थ है:

- (A) वाक्य में आधा अर्थ प्रकट होना।
- (B) वाक्य में किसी अंग का लोप हो जाना।
- (C) वाक्य में कर्ता और कर्म का जुड़ जाना।
- (D) वाक्य में संपर्क छिन्न हो जाना।

Q49 तद्भव शब्द है:

- (A) सुख
- (B) शत
- (C) ढाई
- (D) भक्त

Q45 एक ही विधेय हो जिसमें:

- (A) मिश्र वाक्य
- (B) कर्मपूरक वाक्य
- (C) सरल वाक्य
- (D) संयुक्त वाक्य

Q50 स्त्री शब्द का विशेषण है:

- (A) स्त्री
- (B) स्त्रीय
- (C) स्तैण
- (D) स्त्रैण

Q51 ऋतु का अर्थ है:

- (A) सत्य
- (B) इत्र
- (C) रूप
- (D) कृत

Q56 'बिना पलक झपकाए' के लिए एक शब्द है:

- (A) निष्पलक
- (B) निस्पृह
- (C) निर्निमेष
- (D) निर्विकार

Q52 'शोक करना' के लिए मुहावरे है:

- (A) सिर भारी होना
- (B) सिर चढ़ाना
- (C) सिर पीटना
- (D) सिर पर सवार होना

Q57 अर्द्ध विवृत स्वर है:

- (A) ऊ
- (B) ऐ
- (C) आ
- (D) ए

Q53 'भूर्जा' का संधिविच्छेद होगा:

- (A) भूज + र्जा
- (B) भु + ऊर्जा
- (C) भू + ऊर्जा
- (D) भुज + र्जा

Q58 'प्रज्ञाचक्षु' के लिए वाक्यांश:

- (A) चक्षु ही जिसकी प्रज्ञा हो
- (B) बुद्धि जिसका नेत्र हो
- (C) प्रज्ञा और चक्षु जिसके समान हो
- (D) बुद्धि और ज्ञान होने वाली प्रज्ञा

Q54 वचनामृत समस्तपद का विग्रह होगा:

- (A) अमृत रूपी वचन
- (B) वचन और अमृत
- (C) अमृत जैसी वाणी
- (D) वचन रूपी अमृत

Q59 शुद्ध वाक्य है :

- (A) गाय के पूँछ होती है।
- (B) उसकी बेटी हुई।
- (C) गोपाल को लड़का हुआ।
- (D) मर्द की दाढ़ी होती है।

Q55 हींग लगे न फिटकरी रंग भी चोखा—लोकोक्ति का अर्थ:

- (A) बहुत खर्च खराब काम
- (B) बिना खर्च अच्छा काम
- (C) खर्च कम काम अच्छा
- (D) न काम न खर्च

Q60 वह आयी हो तो मेरी चिढ़ी उसे दे देना। कौन सा काल है?

- (A) संदिग्ध वर्तमान
- (B) संभाव्य वर्तमान
- (C) तात्कालिक वर्तमान
- (D) सामान्य वर्तमान

Q61 स्त्रीलिंग शब्द अलग कीजिए:

- (A) हुलास
- (B) हरकत
- (C) हमला
- (D) हवाला

Q62 सभी चिट्ठियाँ डाक से भेजी गईं। इसमें कर्ता है:

- (A) डाक
- (B) भेजी गई
- (C) सभी
- (D) चिट्ठियाँ

Q63 विसर्ग संधि है:

- (A) निष्कर्म
- (B) संयोग
- (C) सदैव
- (D) गिरीश

Q64 'दुर्गा' का पर्यायवाची है:

- (A) भारती
- (B) श्री
- (C) धात्री
- (D) ज्योत्स्ना

Q65 संज्ञा की द्विरुक्ति हो तो उनके बीच कौन सा चिह्न रहता है?

- (A) अवतरण
- (B) योजक
- (C) कोष्ठक
- (D) निर्देशक

Q66 श्याम को पुस्तक पढ़नी है। यह किस वाच्य में है?

- (A) भाव वाच्य
- (B) कर्तृ वाच्य
- (C) कर्तृ और कर्म वाच्य
- (D) कर्म वाच्य

Q67 कुजगह फोड़ा और ससुर वैद्य—कहावत का अर्थ है:

- (A) दोनों में दोष
- (B) मरीज वैद्य में संपर्क
- (C) दोनों का त्याग
- (D) धर्म संकट की स्थिति

Q68 अचूक विशेषण के साथ उपयुक्त संज्ञा है:

- (A) चोट
- (B) नेत्र
- (C) निशाना
- (D) जवाब

Q69 क्रियार्थक संज्ञा सदा किस रूप में रहती है?

- (A) बहुवचन पुलिंग
- (B) एकवचन पुलिंग
- (C) एकवचन स्त्रीलिंग
- (D) बहुवचन स्त्रीलिंग

Q70 दुकाल में कैसा उपसर्ग है?

- (A) उर्दू
- (B) फारसी
- (C) हिंदी
- (D) अरबी

Q71 देशज शब्द छाँटिए:

- (A) तारीख
- (B) डिबिया
- (C) सूरज
- (D) जनम

Q76 'दृग' का वर्ण – विच्छेद है:

- (A) द् + ऋ + ग् + अ
- (B) द् + र + उ + ग
- (C) द् + ऋ + ग
- (D) द् + र + अ + उ + ग + अ

Q72 कौन-सा व्यंजन संधि नहीं है?

- (A) उद्धरण
- (B) तद्धित
- (C) वाग्जाल
- (D) रसायन

Q77 अशुद्ध शब्द है:

- (A) अनसूया
- (B) ऐनक
- (C) सन्कट
- (D) संशय

Q73 'स्तुत्य' का विलोम है:

- (A) व्हास
- (B) हास
- (C) हेय
- (D) हानि

Q78 'लश्कर में ऊंट बदनाम' का अर्थ है:

- (A) गुणवान का बदनाम
- (B) ऊंट का सदा एकरस
- (C) मोल – ताल कर बदनाम होना
- (D) दोष किसी का पर नाम किसी और का

Q74 खगेश का पर्यायवाची है:

- (A) वासुदेव
- (B) वाक्
- (C) वैनतेय
- (D) विधु

Q79 सही वर्तनी वाला शब्द है:

- (A) सूहृद
- (B) शुश्रूषा
- (C) शपर्धा
- (D) शसीम

Q75 जिनकी ध्वनि केवल मुख से निकलती है, वे हैं:

- (A) वृत्ताकार स्वर
- (B) संवृत स्वर
- (C) अनुनासिक स्वर
- (D) निरनुनासिक स्वर

Q80 भविष्यत काल की क्रिया को बहुवचन बनाने में 'ए' पर क्या होता है?

- (A) ऌ / ॡ
- (B) चंद्रबिंदु / अनुस्वार
- (C) ॠ, ॡ
- (D) अनुस्वार / चन्द्रबिंदु / ॡ

GENERAL KNOWLEDGE / सामान्य जानकारी

Q81 Tripura is surrounded by _____ on its north, south and west.

- (A) Myanmar
- (B) China
- (C) Thailand
- (D) Bangladesh

Q81 त्रिपुरा अपने उत्तर, दक्षिण और पश्चिम में _____ से घिरा हुआ है।

- (A) म्यांमार
- (B) चीन
- (C) थाईलैंड
- (D) बांग्लादेश

Q82 Dhalai and Unokoti are districts in the state of:

- (A) Mizoram
- (B) Assam
- (C) Tripura
- (D) Nagaland

Q82 ढलाई और उनाकोटी _____ राज्य के जिले हैं।

- (A) मिज़ोरम
- (B) असम
- (C) त्रिपुरा
- (D) नागालैंड

Q83 Port Blair is the capital of _____.

- (A) Andaman and Nicobar Islands
- (B) Dadra and Nagar Haveli
- (C) Puducherry
- (D) Lakshadweep

Q83 पोर्ट ब्लेयर _____ की राजधानी है।

- (A) अंडमान और निकोबार द्वीप समूह
- (B) दादरा और नगर हवेली
- (C) पुडुचेरी
- (D) लक्षद्वीप

Q84 Mormugao is a port in which state of India?

- (A) Gujarat
- (B) Orissa
- (C) Maharashtra
- (D) Goa

Q84 मोरमुगांव बंदरगाह भारत के किस राज्य में है?

- (A) गुजरात
- (B) उड़ीसा
- (C) महाराष्ट्र
- (D) गोवा

Q85 Which Article of the Indian Constitution deals with the administration of Scheduled areas and Tribal areas?

- (A) Article 214
- (B) Article 240
- (C) Article 244
- (D) Article 248

Q85 भारतीय संविधान का कौन सा अनुच्छेद अनुसूचित क्षेत्रों और जनजातीय क्षेत्रों के प्रशासन से संबंधित है?

- (A) अनुच्छेद 214
- (B) अनुच्छेद 240
- (C) अनुच्छेद 244
- (D) अनुच्छेद 248

Q86 Which Article of the Indian Constitution provides for a Prime Minister to be appointed by the President?

- (A) Article 81 (1)
- (B) Article 59 (1)
- (C) Article 75 (1)
- (D) Article 80 (1)

Q86 भारतीय संविधान का कौन सा अनुच्छेद यह कहता है कि प्रधानमंत्री की नियुक्ति राष्ट्रपति द्वारा की जाएगी?

- (A) अनुच्छेद 81 (1)
- (B) अनुच्छेद 59 (1)
- (C) अनुच्छेद 75 (1)
- (D) अनुच्छेद 80 (1)

Q87 What is the notice period required for introducing a private member's bill in the Lok Sabha?

- (A) One month
- (B) Three months
- (C) Five months
- (D) Six months

Q87 लोकसभा में सदस्यों द्वारा निजी विधेयक पेश करने की सूचना अवधि क्या है?

- (A) एक माह
- (B) तीन माह
- (C) पाँच माह
- (D) छह माह

Q88 Which Fundamental Right talks about the protection of interests of minorities?

- (A) Right to Education
- (B) Right Against Exploitation
- (C) Right to Constitutional Remedies
- (D) Cultural and Educational Rights

Q89 How many sectors does the 'Make in India' programme focus on?

- (A) 15
- (B) 21
- (C) 25
- (D) 28

Q90 The Atal Mission for Rejuvenation and Urban Transformation (AMRUT) is under which Ministry?

- (A) Housing and Urban Affairs
- (B) Human Resource Development
- (C) Health and Family Welfare
- (D) Home Affairs

Q91 Why is Coimbatore called the 'Manchester of South India'?

- (A) Due to its automobile industry.
- (B) Due to its cotton industry.
- (C) Due to its shoe industry.
- (D) Due to its rubber industry.

Q88 कौन सा मौलिक अधिकार अल्पसंख्यकों के हितों के संरक्षण की बात करता है?

- (A) शिक्षा का अधिकार
- (B) शोषण के विरुद्ध अधिकार
- (C) संवैधानिक उपचारों का अधिकार
- (D) सांस्कृतिक और शैक्षिक अधिकार

Q89 'मेक इन इंडिया' कार्यक्रम कितने क्षेत्रों पर संकेन्द्रित है?

- (A) 15
- (B) 21
- (C) 25
- (D) 28

Q90 कायाकल्प और शहरी परिवर्तन के लिए अटल मिशन (AMRUT) किस मंत्रालय के अधीन है?

- (A) आवास और शहरी मामले
- (B) मानव संसाधन विकास
- (C) स्वास्थ्य और परिवार कल्याण
- (D) गृह मंत्रालय

Q91 कोयंबटूर को 'दक्षिण भारत का मैनचेस्टर' क्यों कहा जाता है?

- (A) इसके ऑटोमोबाइल उद्योग के कारण।
- (B) इसके कपास उद्योग के कारण।
- (C) इसके जूता उद्योग के कारण।
- (D) इसके रबर उद्योग के कारण।

Q92 The 'Startup India' scheme is applicable to entities whose annual turnover for any previous year does NOT exceed _____.

- (A) 1 crore
- (B) 10 crore
- (C) 15 crore
- (D) 25 crore

Q93 When was the 'Make in India' initiative formally introduced by Prime Minister Modi at Vigyan Bhawan, New Delhi?

- (A) August 15, 2014
- (B) September 25, 2014
- (C) October 2, 2014
- (D) November 14, 2014

Q94 Who became the first Indian woman to win gold in the World Junior Athletics?

- (A) Hima Das
- (B) Heena Sidhu
- (C) Dutee Chand
- (D) Seema Punia

Q95 The Fugitive Economic Offenders Bill 2018 covers cases above what value?

- (A) ₹ 75 crore
- (B) ₹ 100 crore
- (C) ₹ 150 crore
- (D) ₹ 200 crore

Q92 'स्टार्टअप इंडिया' योजना उन संस्थाओं पर लागू होती है जिनके पिछले वर्ष का वार्षिक कारोबार _____ से अधिक नहीं होता है।

- (A) 1 करोड़
- (B) 10 करोड़
- (C) 15 करोड़
- (D) 25 करोड़

Q93 विज्ञान भवन, नई दिल्ली में प्रधानमंत्री मोदी द्वारा औपचारिक रूप से 'मेक इन इंडिया' पहल की शुरुआत कब हुई थी?

- (A) 15 अगस्त 2014
- (B) 25 सितम्बर 2014
- (C) 02 अक्टूबर 2014
- (D) 14 नवम्बर 2014

Q94 विश्व जूनियर एथलेटिक्स में स्वर्ण जीतने वाली पहली भारतीय महिला कौन है?

- (A) हिमा दास
- (B) हीना सिद्धू
- (C) दूती चन्द
- (D) सीमा पूनिया

Q95 भगोड़ा आर्थिक अपराधी विधेयक 2018 (The Fugitive Economic Offenders Bill 2018) किस मूल्य से ऊपर के मामलों पर लागू होता है?

- (A) ₹ 75 करोड़
- (B) ₹ 100 करोड़
- (C) ₹ 150 करोड़
- (D) ₹ 200 करोड़

Q96 In a historic first, Rajya Sabha signed an MoU with which country in 2018 for promoting inter-parliamentary dialogue?

- (A) Morocco
- (B) Belarus
- (C) Rwanda
- (D) Zambia

Q97 Commerce and Industry Minister Suresh Prabhu launched a mobile app in India to track and trace missing/abandoned children. It is called _____.

- (A) ReUnite
- (B) ReJoin
- (C) ReConnect
- (D) MeetUp

Q98 Which country won the FIFA World Cup title in 2018?

- (A) Argentina
- (B) Brazil
- (C) Croatia
- (D) France

Q96 एक ऐतिहासिक पहल करते हुए राज्यसभा ने अंतर-संसदीय वार्ता को बढ़ावा देने के लिए 2018 में किस देश के साथ एक समझौता ज्ञापन (MoU) पर हस्ताक्षर किए?

- (A) मोरक्को
- (B) बेलारूस
- (C) रवांडा
- (D) जाम्बिया

Q97 वाणिज्य और उद्योग मंत्री सुरेश प्रभु ने लापता/परित्यक्त बच्चों का पता लगाने और उन पर निगरानी रखने के लिए भारत में एक मोबाइल एप लॉन्च किया है। इसे _____ कहा जाता है।

- (A) ReUnite
- (B) ReJoin
- (C) ReConnect
- (D) MeetUp

Q98 2018 में किस देश ने फीफा विश्व कप खिताब जीता?

- (A) अर्जेंटीना
- (B) ब्राजील
- (C) क्रोएशिया
- (D) फ्रांस

Q99 When did the Agricultural Marketing Infrastructure (AMI) come into effect?

- (A) December 2013
- (B) March 2014
- (C) April 2014
- (D) July 2014

Q99 कृषि विपणन की आधारभूत संरचना (AMI) कब से प्रभावी हुआ?

- (A) दिसंबर 2013
- (B) मार्च 2014
- (C) अप्रैल 2014
- (D) जुलाई 2014

Q100 A new platform named e-RaKAM has been launched by the Government for what purpose?

- (A) Buying agricultural seed
- (B) Selling agricultural produce
- (C) Improving soil quality
- (D) Disbursing farming loans

Q100 सरकार द्वारा ई-रकम (e-RaKAM) नामक एक नया प्लेटफॉर्म किस उद्देश्य के लिए शुरू किया गया है?

- (A) कृषि बीज खरीदने के लिए
- (B) कृषि उत्पाद बेचने के लिए
- (C) मिट्टी की गुणवत्ता में सुधार लाने के लिए
- (D) किसान कर्ज वितरित करने के लिए

Q101 With the Soil Health Card (SHC) the farmers in India will get feedback on how many parameters for the soil in their farmland?

- (A) Five
- (B) Twelve
- (C) Ten
- (D) Fourteen

Q101 मृदा स्वास्थ्य कार्ड (SHC) से भारत के किसानों को उनके खेत में मिट्टी के _____ मानदंडों की जानकारी मिलेगी?

- (A) पाँच
- (B) बारह
- (C) दस
- (D) चौदह

Q102 The Pradhan Mantri _____ Bima Yojna was launched to benefit the farmers.

- (A) Floods
- (B) Farmer
- (C) Fasal
- (D) Food Crop

Q102 किसानों को लाभ पहुंचाने के लिए प्रधानमंत्री _____ बीमा योजना शुरू की गई थी?

- (A) बाढ़
- (B) किसान
- (C) फसल
- (D) खाद्य फसल

Q103 What kind of weather do Kharif crops require?

- (A) Hot and wet
- (B) Hot and dry
- (C) Cold and wet
- (D) Cold and dry

Q104 Who among the following was never the Governor of Uttar Pradesh?

- (A) ND Tiwari
- (B) Motilal Vohra
- (C) VV Giri
- (D) Romesh Bhandari

Q105 Ram Naik was sworn in as Governor of Uttar Pradesh in the year _____.

- (A) 2014
- (B) 2015
- (C) 2016
- (D) 2013

Q106 The Bharatiya Janata Party was founded in the year _____.

- (A) 1977
- (B) 1978
- (C) 1979
- (D) 1980

Q107 The Chief Election Commissioner of India, must retire at the age of _____.

- (A) 60
- (B) 65
- (C) 67
- (D) 70

Q103 खरीफ फसलों के लिए किस तरह के मौसम की आवश्यकता होती है?

- (A) गर्म और नम
- (B) गर्म और शुष्क
- (C) ठंडा और नम
- (D) ठंडा और शुष्क

Q104 निम्नलिखित में से कौन कभी भी उत्तर प्रदेश का राज्यपाल नहीं रहा है?

- (A) एन. डी. तिवारी
- (B) मोतीलाल वोहरा
- (C) वी. वी. गिरी
- (D) रोमेश भंडारी

Q105 राम नाईक ने वर्ष _____ में उत्तर प्रदेश के राज्यपाल के रूप में शपथ ली।

- (A) 2014
- (B) 2015
- (C) 2016
- (D) 2013

Q106 भारतीय जनता पार्टी की स्थापना वर्ष _____ में की गई थी।

- (A) 1977
- (B) 1978
- (C) 1979
- (D) 1980

Q107 भारत के मुख्य निर्वाचन आयुक्त की सेवानिवृत्ति की आयु _____ वर्ष है।

- (A) 60
- (B) 65
- (C) 67
- (D) 70

Q108 Microsoft Windows, MacOS X, and Linux are all examples of _____.

- (A) laptop brands
- (B) operating systems
- (C) motherboard types
- (D) CPUs

Q109 Which computer peripheral allows you to copy a physical image or document and save it to your computer as a digital image?

- (A) Modem
- (B) Printer
- (C) Scanner
- (D) USB drive

Q110 Settings for the mouse, display, sound, network, and keyboard can be changed in which section of Microsoft Windows?

- (A) Browser
- (B) Control Panel
- (C) Office Tools
- (D) Accessories

Q108 Microsoft Windows, MacOS X और Linux ये सभी _____ के उदाहरण हैं।

- (A) लैपटॉप ब्रांड
- (B) ऑपरेटिंग सिस्टम
- (C) मदरबोर्ड के प्रकार
- (D) सेन्ट्रर प्रोसेसिंग यूनिट (CPU)

Q109 कौन सा कंप्यूटर पेरिफेरल आपको भौतिक छवि या दस्तावेज की प्रतिलिपि बनाने और उसे डिजिटल छवि के रूप में अपने कंप्यूटर पर सहेजने की सुविधा प्रदान करता है?

- (A) मॉडेम
- (B) प्रिंटर
- (C) स्कैनर
- (D) USB ड्राइव

Q110 माउस, डिस्प्ले, साउंड, नेटवर्क और कीबोर्ड की सेटिंग्स को माइक्रोसॉफ्ट विंडोज के किस सेक्शन में बदला जा सकता है?

- (A) ब्राउजर
- (B) कंट्रोल पैनल
- (C) ऑफिस टूल्स
- (D) एक्सेसरीज़

Q111 Who invented the QWERTY style/method of keyboard used for computers and also for typewriters?

- (A) Michael Bloomberg
- (B) William Singerly
- (C) Edward Rosewater
- (D) Christopher Latham Sholes

Q111 कंप्यूटर तथा टाइपराइटर के लिए इस्तेमाल की जाने वाली कीबोर्ड की QWERTY शैली/विधि का आविष्कार किसने किया?

- (A) माइकल ब्लूमबर्ग
- (B) विलियम सिंगरली
- (C) एडवर्ड रोज़वाटर
- (D) क्रिस्टोफर लैथम शोल्स

Q112 Where did the Buddha preach his first sermon?

- (A) Kushinagar
- (B) Sarnath
- (C) Ayodhya
- (D) Varanasi

Q112 बुद्ध ने अपना पहला उपदेश कहाँ दिया था?

- (A) कुशीनगर
- (B) सारनाथ
- (C) अयोध्या
- (D) वाराणसी

Q113 Which is the most renowned sweet from Agra?

- (A) Balushahi
- (B) Gajar ka Halwa
- (C) Petha
- (D) Malpua

Q113 आगरा की सबसे प्रसिद्ध मिठाई कौन सी है?

- (A) बालुशाही
- (B) गाजर का हलवा
- (C) पेठा
- (D) मालपुआ

Q114 The Kumbh Mela and the Ardh Kumbh are held every _____ year, respectively.

- (A) twelfth and sixth
- (B) tenth and fifth
- (C) eighth and fourth
- (D) sixth and third

Q114 कुंभ मेला और अर्ध कुंभ क्रमशः प्रत्येक _____ वर्ष लगते हैं।

- (A) बारहवें और छठे
- (B) दसवें और पाँचवें
- (C) आठवें और चौथे
- (D) छठे और तीसरे

Q115 Which of the following cities hosts the Kumbh Mela?
(A) Varanasi
(B) Allahabad
(C) Benaras
(D) Ayodhya

Q115 निम्न में से किस शहर में कुंभ मेला लगता है?
(A) वाराणसी
(B) इलाहाबाद
(C) बनारस
(D) अयोध्या

Q116 The Charkula dance form of Uttar Pradesh has the woman dancing with what placed on her head?
(A) Earthen pot full of water
(B) Earthen pot full of milk
(C) Oil lamps
(D) Four earthen pots

Q116 उत्तर प्रदेश के चरकुला नृत्य में महिला अपने सिर पर क्या रख कर नृत्य करती है?
(A) पानी से भरा मिट्टी का बर्तन
(B) दूध से भरा मिट्टी का बर्तन
(C) तेल के दीपक
(D) चार मिट्टी के बर्तन

Q117 As of July 2018, how many districts does the state of Uttar Pradesh have?
(A) 72
(B) 75
(C) 78
(D) 77

Q117 उत्तर प्रदेश में कुल कितने जिले हैं?
(A) 72
(B) 75
(C) 78
(D) 77

Q118 Aligarh is famous for its _____.
(A) mithai
(B) bangles
(C) glassware
(D) locks

Q118 अलीगढ़ _____ के लिए प्रसिद्ध है।
(A) मिठाइयों
(B) चूड़ियों
(C) काँच की वस्तुओं
(D) तालों

Q119 Where is the Chikankari form of handicraft mainly practiced?

- (A) Hapur
- (B) Kanpur
- (C) Lucknow
- (D) Mathura

Q120 Which Uttar Pradesh Chief Minister also was the head of the Gorakhpur Math?

- (A) Sampurnanad
- (B) Gobind Vallabh Pant
- (C) Banarsi Das
- (D) Yogi Adityanath

Q121 In which year was the Uttar Pradesh Public Service Tribunal set up?

- (A) 1974
- (B) 1976
- (C) 1980
- (D) 1984

Q122 When was the Non-cooperation Movement withdrawn?

- (A) February 1922
- (B) March 1926
- (C) May 1929
- (D) September 1925

Q119 हस्तशिल्प के अंतर्गत आने वाली चिकनकारी का कार्य मुख्य रूप से कहाँ किया जाता है?

- (A) हापुड़
- (B) कानपुर
- (C) लखनऊ
- (D) मथुरा

Q120 उत्तर प्रदेश के कौन से मुख्यमंत्री गोरखपुर मठ के अध्यक्ष भी हैं/थे?

- (A) संपूर्णानंद
- (B) गोविंद वल्लभ पंत
- (C) बनारसी दास
- (D) योगी आदित्यनाथ

Q121 उत्तर प्रदेश लोक सेवा न्यायाधिकरण किस वर्ष स्थापित हुआ था?

- (A) 1974
- (B) 1976
- (C) 1980
- (D) 1984

Q122 असहयोग आंदोलन कब वापस ले लिया गया?

- (A) फरवरी 1922
- (B) मार्च 1926
- (C) मई 1929
- (D) सितंबर 1925

Q123 Which freedom fighter was given the honorary title of 'Lokmanya'?

- (A) Lala Lajpat Rai
- (B) Dadabhai Naoroji
- (C) Bal Gangadhar Tilak
- (D) Rajendra Prasad

Q124 To launch which movement did Mahatma Gandhi give the 'Do or Die' speech?

- (A) Non-Cooperation Movement
- (B) Quit India Movement
- (C) Civil Disobedience Movement
- (D) Khilafat Movement

Q125 Mahatma Gandhi arrived in _____, South Africa aboard the steamship SS Safari.

- (A) Johannesburg
- (B) Cape Town
- (C) Durban
- (D) Port Elizabeth

Q126 Rabindranath Tagore rejected knighthood to protest _____.

- (A) Jalianwala Bagh Massacre
- (B) Khilafat Movement
- (C) Sepoy Mutiny
- (D) Non-Cooperation Movement

Q123 किस स्वतंत्रता सेनानी को 'लोकमान्य' की मानद उपाधि दी गयी?

- (A) लाला लाजपत राय
- (B) दादाभाई नौरोजी
- (C) बाल गंगाधर तिलक
- (D) राजेन्द्र प्रसाद

Q124 महात्मा गांधी ने किस आंदोलन के लिए 'करो या मरो' नारा दिया था?

- (A) असहयोग आंदोलन
- (B) भारत छोड़ो आंदोलन
- (C) सविनय अवज्ञा आंदोलन
- (D) खिलाफत आंदोलन

Q125 महात्मा गांधी भाप से चलने वाले जहाज एस.एस. सफारी द्वारा दक्षिण अफ्रीका के _____ पहुंचे थे।

- (A) जोहानसबर्ग
- (B) केप टाउन
- (C) डरबन
- (D) पोर्ट एलिजाबेथ

Q126 रबीन्द्रनाथ टैगोर ने किस नरसंहार के विरोध में नाइटहुड की उपाधि लौटा दी?

- (A) जलियावाला बाग नरसंहार
- (B) खिलाफत आंदोलन
- (C) सैनिक विद्रोह
- (D) असहयोग आंदोलन

Q127 Gandhiji established a communal living community called _____ Settlement just outside of Durban in June 1904.

- (A) Ruskin
- (B) Natal
- (C) Pretoria
- (D) Phoenix

Q127 गांधीजी ने जून 1904 में डरबन के बाहर _____ बस्ती नामक एक सामुदायिक क्रियाशील मठ की स्थापना की।

- (A) रस्किन
- (B) नटाल
- (C) प्रिटोरिया
- (D) फीनिक्स

Q128 Where is the famous Pir Panjal Railway Tunnel located?

- (A) Jharkhand
- (B) Jammu and Kashmir
- (C) Maharashtra
- (D) Mizoram

Q128 प्रसिद्ध पीर पंजाल रेलवे सुरंग कहां स्थित है?

- (A) झारखंड
- (B) जम्मू और कश्मीर
- (C) महाराष्ट्र
- (D) मिज़ोरम

Q129 How many countries does India share its borders with?

- (A) Four
- (B) Five
- (C) Seven
- (D) Nine

Q129 भारत की सीमाएं कितने देशों से लगती हैं?

- (A) चार
- (B) पाँच
- (C) सात
- (D) नौ

Q130 Mahansar, Dungarpur, Churu, Narlai are cities/towns/villages in which state of India?

- (A) Uttar Pradesh
- (B) Madhya Pradesh
- (C) Rajasthan
- (D) Uttaranchal

Q130 महनसर, डूंगरपुर, चूरु, नारलाई शहर भारत के किस राज्य में हैं?

- (A) उत्तर प्रदेश
- (B) मध्य प्रदेश
- (C) राजस्थान
- (D) उत्तरांचल

Q131 A discount shop sells each article for ₹ 99. The shopkeeper is making 98% profit on the cost price of each article.

Which one of the conclusions given in the options below can be drawn logically and definitely from the statement above?

- (A) The profit per article is greater than the cost price of each article.
- (B) The profit earned on each article is ₹ 51.
- (C) The cost price of each article is ₹ 50.
- (D) The profit per article is the same as the cost price of each article.

Q132 The government has decided to shut down all polluting industries rather than shifting them to rural areas and thus jeopardising the lives of people living in surrounding villages.

Which one of the conclusions given in the options below can be drawn logically and definitely from the statement above?

- (A) The government is apathetic towards the needs of the industrial sector.
- (B) The government is sensitive to the health and lives of people residing in rural areas.
- (C) The government has taken this decision to impress the supreme court.
- (D) The government is not doing anything to improve the lot of 50 crore rural farmers and artisans.

Q131 वस्तुओं पर छूट देने वाली एक दूकान प्रत्येक वस्तु ₹ 99 में बेचती है। दूकानदार प्रत्येक वस्तु के लागत मूल्य पर 98% लाभ कमाता है।

नीचे दिए गए विकल्पों में कौन सा निष्कर्ष उपर्युक्त विवरण से तार्किक रूप से एवं निश्चित रूप से मेल खाता है?

- (A) प्रति वस्तु लाभ प्रत्येक वस्तु के लागत मूल्य से अधिक है।
- (B) प्रत्येक वस्तु पर लाभ ₹ 51 है।
- (C) प्रत्येक वस्तु का लागत मूल्य ₹ 50 है।
- (D) प्रत्येक वस्तु का लाभ प्रत्येक वस्तु के लागत मूल्य के बराबर है।

Q132 भारत सरकार ने सभी प्रदूषण फैलाने वाले उद्योगों को ग्रामीण क्षेत्रों में स्थानांतरित करने की बजाय और आसपास के गांवों में लोगों के जीवन को खतरे में डालने की बजाय उन्हें बंद करने का निर्णय लिया है। नीचे दिए गए विकल्पों में कौन सा निष्कर्ष उपर्युक्त विवरण से तार्किक एवं निश्चित रूप से मेल खाता है?

- (A) सरकार उद्योगों की आवश्यकताओं के प्रति उदासीन है।
- (B) सरकार ग्रामीण क्षेत्रों में रहने वाले लोगों के स्वास्थ्य एवं जीवन के प्रति संवेदनशील है।
- (C) सरकार ने यह निर्णय उच्चतम न्यायालय को प्रभावित करने के लिए लिया है।
- (D) सरकार 50 करोड़ ग्रामीण किसानों एवं शिल्पकारों की भारी संख्या के सुधार के लिए कुछ नहीं कर रही है।

Q133 Given below is a statement, followed by two arguments numbered I and II. which of the arguments is/are strong with respect to the statement.

Statement:

Should the government allocate coal mines to private players?

Arguments:

- I. Yes. Many large industrial houses have sent in proposals to buy coal blocks.
 - II. No. Only some industrial houses will win the bids.
- (A) Only argument I is strong.
(B) Only argument II is strong.
(C) Neither argument I nor argument II is strong.
(D) Both the arguments are strong.

Q134 A statement is followed by two arguments. Decide which of the arguments is/are strong with respect to the statement.

Statement:

Should Shubham accept a foreign assignment for a year?

Arguments:

- I. Yes. He can add foreign currency to his coin collection.
 - II. No. Shubham's old parents often fall sick and his wife's advanced pregnancy is in a critical stage.
- (A) Only argument I is strong.
(B) Only argument II is strong.
(C) Neither argument I nor argument II is strong.
(D) Both the arguments are strong.

Q133 नीचे दिए गए विवरण का अनुसरण तर्क I एवं II करते हैं। इनमें से कौन सा/से तर्क उक्त विवरण के साथ अधिक मजबूती से संबंधित है/हैं।

कथन :

क्या सरकार को कोयला खदानें निजी कम्पनियों को आवंटित करनी चाहिए?

तर्क:

- I हां, कई बड़े औद्योगिक घरानों ने कोयला ब्लॉक खरीदने के प्रस्ताव भेजे हैं।
 - II नहीं, बड़े औद्योगिक घराने कोयला खदानों का सारा लाभ ठिकाने लगा देंगे।
- (A) केवल तर्क I मजबूत है।
(B) केवल तर्क II मजबूत है।
(C) न तो तर्क I न ही तर्क II मजबूत है।
(D) दोनों तर्क मजबूत हैं।

Q134 नीचे दिए गए विवरण का अनुसरण दो तर्क करते हैं। इनमें से कौन सा/से तर्क उक्त विवरण के साथ अधिक मजबूती से संबंधित है/हैं।

कथन :

क्या शुभम को एक वर्ष के लिए विदेशी काम को स्वीकार करना चाहिए?

तर्क:

- I हां, वह वहां अधिक धन कमा सकता है।
 - II नहीं, शुभम के बूढ़े मां-बाप प्रायः बीमार रहते हैं और उसकी पत्नी भी गर्भावस्था की नाजुक स्थिति में है।
- (A) केवल तर्क I मजबूत है।
(B) केवल तर्क II मजबूत है।
(C) न तो तर्क I न ही तर्क II मजबूत है।
(D) दोनों तर्क मजबूत हैं।

Q135 Defying stereotypes, Pooja went to the United States to pursue higher studies in Peace and Conflict Studies at the age of 40. Select the assumption that is implicit in the statement above.

(A) Pooja's extended family lives in the United States.

(B) Pooja is good at studies, especially international relations and diplomacy.

(C) Pooja has proven that age cannot obstruct the path of a determined person.

(D) Pooja has earned a scholarship and fee waiver for doing PhD in Peace Studies.

Q136 Select the option that is related to the third term in the same way as the second term is related to the first term.

Australia : Kangaroos :: New Zealand : ?

(A) Kiwis

(B) Ostriches

(C) Emus

(D) Penguins

Q137 Jawed's brother Usman is married to Mariam, whose mother-in-law has only one daughter, Shaheen. How is Shaheen's son Danish related to Jawed?

(A) Brother

(B) Nephew

(C) Brother-in-law

(D) Son

Q138 In a certain code language, 'DISASTER' is written as 'EKTCTVFT'. How will 'ANAMALY' be written in that language?

(A) BOBNBMZ

(B) BPCNCMZ

(C) BPBOBNZ

(D) BPCOBNA

Q135 रूढ़ीवादी परंपराओं को टेंगा दिखाते हुए पूजा 40 वर्ष की आयु में शांति एवं संघर्ष पर अध्ययन की उच्च शिक्षा के लिए यूनाइटेड स्टेट्स गई। उपर्युक्त विवरण में अन्तर्निहित धारणा का चयन करें।

(A) पूजा ने यूनाइटेड स्टेट्स में पारिवारिक जीवन का विस्तार किया।

(B) पूजा पढ़ाई में विशेषकर अंतर्राष्ट्रीय संबंध एवं कूटनीति में अच्छी है।

(C) पूजा ने प्रमाणित किया है कि उम्र पक्के इरादे वाले इन्सान की राह में बाधा नहीं बन सकती है।

(D) पूजा ने शांति अध्ययन में पी.एच.डी. करने के लिए छात्रवृत्ति एवं शुल्क (फीस) में छूट प्राप्त की।

Q136 नीचे दिए गए विकल्पों में से तीसरे पद से संबंधित विकल्प उसी प्रकार चुनें जैसाकि दूसरा पद पहले पद से संबंधित है।

आस्ट्रेलिया : कंगारू :: न्यूजीलैंड : ?

(A) कीवी

(B) शुतुरमुर्ग

(C) एमु

(D) पेंग्विन (न उड़ पाने वाली चिड़िया)

Q137 जावेद का भाई उस्मान मरीयम से विवाहित है, जिसकी सास शाहीन की इकलौती बेटी है। शाहीन के बेटे दानिश का जावेद से क्या संबंध है?

(A) भाई

(B) भतीजा

(C) जीजा या साला

(D) बेटा

Q138 एक कोड भाषा में 'DISASTER' को 'EKTCTVFT' के रूप में लिखा जाता है। उस भाषा में 'ANAMALY' को कैसे लिखा जाएगा?

(A) BOBNBMZ

(B) BPCNCMZ

(C) BPBOBNZ

(D) BPCOBNA

Q139 Which word given in the options CANNOT be formed using letters of the given word only as many times as each letter appears in the word?

SCINTILLATING

- (A) GALLANT
- (B) STING
- (C) LASTING
- (D) SCANT

Q140 In a certain code language, 'SYSTEM' is written as 'TZTSDL'. How will 'SCALAR' be written in that language?

- (A) TDBMBS
- (B) TDZSMB
- (C) TDBKZQ
- (D) RBZKZQ

Q141 Select the option that is related to the third term in the same way as the second term is related to the first term.

Dance : Moves :: Music : ?

- (A) Notes
- (B) Instruments
- (C) Songs
- (D) Recording

Q142 Given below are some letters and each letter is tagged to a number. Select the combination of numbers so that the letters arranged accordingly will form a meaningful word.

S	R	D	H	A	I
1	2	3	4	5	6

- (A) 3, 6, 2, 4, 6, 1
- (B) 1, 2, 6, 3, 4, 5
- (C) 2, 6, 1, 4, 5, 3
- (D) 2, 5, 3, 6, 1, 4

Q139 केवल नीचे दिए गए शब्द में, जितनी बार शब्द में कोई अक्षर आया है, उतनी बार अक्षरों का प्रयोग करते हुए दिए गए उत्तर विकल्पों में से कौन सा शब्द नहीं बनाया जा सकता है?

SCINTILLATING

- (A) GALLANT
- (B) STING
- (C) LASTING
- (D) SCANT

Q140 एक कोड भाषा में 'SYSTEM' को 'TZTSDL' के रूप में लिखा जाता है। उस भाषा में 'SCALAR' को कैसे लिखा जाएगा?

- (A) TDBMBS
- (B) TDZSMB
- (C) TDBKZQ
- (D) RBZKZQ

Q141 नीचे दिए गए विकल्पों में से तीसरे पद से संबंधित विकल्प उसी प्रकार चुनें जैसाकि दूसरा पद पहले पद से संबंधित है।

नृत्य : चाल :: संगीत : ?

- (A) नोट्स
- (B) वाद्ययंत्र
- (C) गीत
- (D) रिकॉर्डिंग

Q142 नीचे कुछ अक्षर दिए गए हैं और प्रत्येक अक्षर एक संख्या से जुड़ा हुआ है। उत्तर में दी गई संख्याओं के मेल (कंबिनेशन) का चयन करें जिनसे तदनुसार व्यवस्थित किए गए अक्षरों से एक सार्थक शब्द बनेगा।

S	R	D	H	A	I
1	2	3	4	5	6

- (A) 3, 6, 2, 4, 6, 1
- (B) 1, 2, 6, 3, 4, 5
- (C) 2, 6, 1, 4, 5, 3
- (D) 2, 5, 3, 6, 1, 4

Q143 Jenny's brother, Keith, is Vanessa's father. Bill is Sally's son, whose only sister is married to Paul. Keith married Sally exactly thirty years ago. How is Bill related to Jenny?

- (A) Uncle
- (B) Nephew
- (C) Cousin
- (D) Brother-in-law

Q144 In a certain code language, 'PRODUCE' is written as 'ORPDECU'. How will 'FRAGILE' be written in that language?

- (A) ELIGARF
- (B) ARFGILE
- (C) ARFGELI
- (D) AFRGLEI

Q145 Which among the following words will come third in the English Dictionary?

- (A) Amorous
- (B) Amicable
- (C) Amenity
- (D) Amiable

Q146 Given below are some letters and each letter is tagged to a number. Select the combination of numbers so that the letters arranged accordingly will form a meaningful word.

M R F E A R
1 2 3 4 5 6

- (A) 1, 4, 2, 3, 5, 6
- (B) 6, 4, 3, 5, 2, 1
- (C) 2, 6, 1, 4, 5, 3
- (D) 3, 5, 2, 1, 4, 6

Q143 जेन्नी का भाई कैथ वनीशा का पिता है। बिल सैली का बेटा है जिसकी इकलौती बहन पॉल से विवाहित है। कैथ ने सैली से ठीक 30 साल पहले विवाह किया था। बिल का जेन्नी से क्या संबंध है?

- (A) मामा
- (B) भतीजा
- (C) ममेरा भाई
- (D) जीजा या साला

Q144 एक निश्चित कोड भाषा में 'PRODUCE' को 'ORPDECU' के रूप में लिखा जाता है। उस भाषा में 'FRAGILE' को कैसे लिखा जाएगा?

- (A) ELIGARF
- (B) ARFGILE
- (C) ARFGELI
- (D) AFRGLEI

Q145 अंग्रेजी शब्द में निम्नलिखित में से कौन सा शब्द तीसरा होगा?

- (A) प्रणयशील
- (B) मैत्रीपूर्ण
- (C) सुख सुविधा
- (D) सुशील

Q146 नीचे कुछ लेटर दिए गए हैं और प्रत्येक लेटर को एक संख्या में टैग किया गया है। संख्याओं के संयोजन का चयन करें ताकि तदनुसार व्यवस्थित लेटर एक सार्थक शब्द बन जाएंगे।

M R F E A R
1 2 3 4 5 6

- (A) 1, 4, 2, 3, 5, 6
- (B) 6, 4, 3, 5, 2, 1
- (C) 2, 6, 1, 4, 5, 3
- (D) 3, 5, 2, 1, 4, 6

Q147 In a certain code language, 'TRAVEL' is written as 'UQBUFK'. How will 'JOURNEY' be written in that language?

- (A) IPVSMFX
- (B) KNTSMFX
- (C) KNVQODZ
- (D) IPVSODZ

Q148 Select the option that is related to the third term in the same way as the second term is related to the first term.

1012 : 121 :: 1416 : ?

- (A) 200
- (B) 225
- (C) 196
- (D) 256

Q149 Select the option that is different from the other three.

- (A) CDEFG
- (B) MNOPQ
- (C) GHIJK
- (D) RSTUV

Q150 Select the number pair that is different from the remaining three.

- (A) 11 : 120
- (B) 13 : 168
- (C) 15 : 256
- (D) 18 : 323

Q151 If '×' means '−', '+' means '÷', '−' means '×' and '÷' means '+', then find the value of:

$$7 \times 28 + 7 \div 31 - 4 \div 11 = ?$$

- (A) 138
- (B) 127
- (C) 110
- (D) 166

Q147 एक निश्चित कोड भाषा में 'TRAVEL' को 'UQBUFK' के रूप में लिखा जाता है। उस भाषा में 'JOURNEY' को कैसे लिखा जाएगा?

- (A) IPVSMFX
- (B) KNTSMFX
- (C) KNVQODZ
- (D) IPVSODZ

Q148 उस विकल्प का चयन करें जिसका तीसरे शब्द से वही संबंध है, जैसा कि दूसरे शब्द से पहले का है।
1012 : 121 :: 1416 : ?

- (A) 200
- (B) 225
- (C) 196
- (D) 256

Q149 विकल्प को चुनें जो कि अन्य तीनों से अलग है।

- (A) CDEFG
- (B) MNOPQ
- (C) GHIJK
- (D) RSTUV

Q150 शेष तीन से अलग संख्या युग्म चुनें।

- (A) 11 : 120
- (B) 13 : 168
- (C) 15 : 256
- (D) 18 : 323

Q151 यदि '×' का अर्थ '−', '+' का अर्थ '÷', '−' का अर्थ '×' और '÷' का अर्थ '+', है, तो उसका मान ज्ञात करें।

$$7 \times 28 + 7 \div 31 - 4 \div 11 = ?$$

- (A) 138
- (B) 127
- (C) 110
- (D) 166

Q152 If '\$' stands for 'Addition', '@' stands for 'Subtraction', '#' stands for 'Multiplication', and '©' stands for 'Division', then solve:

$$75 \text{ © } 5 \$ 20 \text{ @ } 12 \# 3$$

- (A) 69
- (B) -1
- (C) -39
- (D) 39

Q153 Select the correct equation after interchanging operations signs and numbers as given below.

Given interchanges:

Signs '×' and '+'

Numbers 7 and 6.

- (A) $24 + 7 \times 6 = 66$
- (B) $24 + 7 \times 6 = 174$
- (C) $24 + 6 \times 7 = 151$
- (D) $24 \times 6 + 7 = 66$

PSG1 Read the rules for selecting a candidate as Project Manager at Shiva Corporation and answer the questions that follow.

- A. To be shortlisted for interview with the HR Head, a candidate MUST:
1. be a post graduate or a post-graduate-diploma holder in management with specialisation in Human Resource Management, Personnel Management or Operations Management with a minimum of 60% in aggregate.
 2. be born between 01.04.1990 and 31.03.1996.
 3. have full-time work experience of at least 3 years at associate level and at least 1 year at supervisory level.

Q152 यदि '\$', 'जोड़' का प्रतीक है, '@' का अर्थ है 'घटाव', '#', 'गुणा' के लिए है, और '©', 'डिवीजन' का प्रतीक है, फिर हल करें।

$$75 \text{ © } 5 \$ 20 \text{ @ } 12 \# 3$$

- (A) 69
- (B) -1
- (C) -39
- (D) 39

Q153 नीचे दिए गए परिचालनों, चिन्हों और संख्याओं के परस्पर बदलने के बाद सही समीकरण का चयन करें।

दिए गए बदलाव:

चिन्ह '×' और '+'

संख्या 7 और 6

- (A) $24 + 7 \times 6 = 66$
- (B) $24 + 7 \times 6 = 174$
- (C) $24 + 6 \times 7 = 151$
- (D) $24 \times 6 + 7 = 66$

PSG1 शिवा कॉर्पोरेशन में प्रोजेक्ट मैनेजर के रूप में उम्मीदवार का चयन करने के लिए नियमों को पढ़ें और नीचे दिए गए प्रश्नों का उत्तर दें।

- A. मानव संसाधन प्रमुख के साथ साक्षात्कार के जिल चयनित एक उम्मीदवार को चाहिए:
1. पूर्णांक में कम से कम 60% अंकों के साथ मानव संसाधन प्रबंधन, कार्मिक प्रबंधन या संचालन प्रबंधन में विशेषज्ञता के साथ प्रबंधन में स्नातक या स्नातकोत्तर-डिप्लोमा धारक होना चाहिए।
 2. 01.04.1990 और 31.03.1996 के बीच पैदा होना चाहिए।
 3. सहयोगी स्तर पर कम से कम 3 वर्षों का पूर्णकालिक कार्य अनुभव और कम से कम 1 वर्ष का पर्यवेक्षी स्तर पर अनुभव हो।

B. The following exceptions will be made. If a candidate:

1. belongs to the defence category, the upper age limit will be relaxed by 3 years.
2. has scored less than 60% but more than 50% in Masters / PG Diploma but has more than 3 years of experience as a supervisor, such a candidate will be recommended for interview with the Operations Head.
3. has less than 3 years of total experience, but more than 2 years of supervisory experience, such a candidate will be recommended for interview with the Project Lead.

Q154 Naman is a postgraduate in HR and PM with 81% marks. He has worked as a labour supervisor for 2 years after working as a management trainee for 4 years. He was born on 27th March 1991 and belongs to a family of soldiers.

What decision should be taken regarding this candidate?

- (A) He will be shortlisted for interview with the CEO of the company.
- (B) He will be shortlisted for interview with the HR Head.
- (C) He will be shortlisted for interview with the Operations Head.
- (D) He will be given the defence quota age relaxation and recommended for interview with the Labour Welfare Officer.

B. निम्नलिखित अपवाद बनाए जाएंगे। यदि कोई उम्मीदवार है:

1. रक्षा श्रेणी से संबंधित लोगों को ऊपरी आयु सीमा में 3 साल तक की छूट दी जाएगी।
2. जिसने स्नातक या स्नातकोत्तर-डिप्लोमा में 60% से कम लेकिन 50% से अधिक अंक अर्जित किया है लेकिन पर्यवेक्षक के रूप में 3 वर्षों से अधिक का अनुभव है, ऐसे उम्मीदवार की अनुशंसा ऑपरेशन हेड के लिए की जाएगी।
3. जिनका कुल अनुभव 3 साल से कम है, लेकिन पर्यवेक्षी अनुभव 2 वर्ष से अधिक है, ऐसे उम्मीदवार की अनुशंसा परियोजना संचालक के लिए की जाएगी।

Q154 नमन मानव संसाधन और कार्मिक प्रबंधन में 81% अंको के साथ स्नातकोत्तर हैं। उन्होंने 4 वर्षों तक प्रबंधन प्रशिक्षु के रूप में काम करने के बाद 2 साल तक एक श्रम पर्यवेक्षक के रूप में काम किया है। उनका जन्म 27 मार्च 1991 को सैनिक परिवार में हुआ था। इस उम्मीदवार के बारे में क्या निर्णय लिया जाना चाहिए?

- (A) उन्हें कंपनी के सीईओ के साथ साक्षात्कार के लिए संक्षिप्त सूची में नामांकित किया जाएगा।
- (B) एचआर हेड के साथ साक्षात्कार के लिए उन्हें संक्षिप्त सूची में नामांकित किया जाएगा।
- (C) ऑपरेशन हेड के साथ साक्षात्कार के लिए उन्हें संक्षिप्त सूची में नामांकित किया जाएगा।
- (D) उन्हें रक्षा कोटा के तहत आयु में छूट दी जाएगी और श्रम कल्याण अधिकारी के साथ साक्षात्कार के लिए अनुशंसा की जाएगी।

Q155 Guruvayur has worked as a manager with a BPO firm for 8 years. He belongs to the unreserved category and was born in 1989. He has scored 63% in post-graduation. He has been promoted as a supervisor about 16 months ago. What decision should be taken regarding this candidate?

- (A) He will be shortlisted for interview with the HR Head.
- (B) He will be shortlisted for interview with the Operations Head.
- (C) He will be recommended for interview with the Labour Welfare Officer.
- (D) He will be rejected as he does not meet an important criterion.

Q156 Shreshtha, born on 02.03.1992, has secured 73% in the PG Diploma course in Personnel Management. She got her first job at an FMCG company. After working as a management trainee at Ace for 6 months, she was confirmed on the company's roll as a Sales Supervisor, a post she has held for the last 25 months. What decision should be taken regarding this candidate?

- (A) She will be shortlisted for interview with the Project Lead.
- (B) She will be shortlisted for interview with the HR Head.
- (C) She will be shortlisted for interview with the Operations Head.
- (D) She will be rejected as he does not meet an important criterion.

Q155 गुरुवायूर ने बीपीओ फर्म के साथ 8 साल तक एक प्रबंधक के रूप में काम किया है। वह अनारक्षित श्रेणी से संबंधित हैं और 1989 में पैदा हुए थे। उन्होंने स्नातकोत्तर में 63% अंक प्राप्त किया है। उनकी पदोन्नति 16 महीने पहले पर्यवेक्षक के रूप में की गई। इस उम्मीदवार के बारे में क्या निर्णय लिया जाना चाहिए?

- (A) एचआर हेड के साथ साक्षात्कार के लिए उन्हें संक्षिप्त सूची में नामांकित किया जाएगा।
- (B) ऑपरेशन हेड के साथ साक्षात्कार के लिए उन्हें संक्षिप्त सूची में नामांकित किया जाएगा।
- (C) श्रम कल्याण अधिकारी के साथ साक्षात्कार के लिए उनकी अनुशंसा की जाएगी।
- (D) उन्हें रिजेक्ट कर दिया जाएगा क्योंकि वह एक महत्वपूर्ण मानदंड को पूरा नहीं पाए।

Q156 02.03.1992 को जन्मी श्रेष्ठा ने कार्मिक प्रबंधन में पीजी डिप्लोमा कोर्स में 73% अंक प्राप्त किया है। उन्हें FMCG कंपनी में पहली नौकरी मिली। Ace में 6 महीने के लिए प्रबंधन प्रशिक्षु के रूप में काम करने के बाद कंपनी नियमावली के अनुसार उन्हें सेल्स सुपरवाइज़र के रूप में स्थायी किया गया, उस पद पर वह पिछले 25 महीनों से हैं। इस उम्मीदवार के बारे में क्या निर्णय लिया जाना चाहिए?

- (A) परियोजना संचालक के साथ साक्षात्कार के लिए उन्हें संक्षिप्त सूची में नामांकित किया जाएगा।
- (B) एचआर हेड के साथ साक्षात्कार के लिए उन्हें संक्षिप्त सूची में नामांकित किया जाएगा।
- (C) ऑपरेशन प्रमुख के साथ साक्षात्कार के लिए उन्हें संक्षिप्त सूची में नामांकित किया जाएगा।
- (D) उन्हें रिजेक्ट कर दिया जाएगा क्योंकि वह एक महत्वपूर्ण मानदंड को पूरा नहीं कर सकी।

Q157 Read the given question and decide which of the following options is additionally required to answer the question?

Question:

Six friends are sitting in a straight row facing the screen in a cinema hall. Abhay is sitting at one of the ends. Binay is sitting next to neither Deepak nor Gautam. Calvin is sitting immediately next to Gautam. Abhay has Binay to his immediate right. Who is sitting to Binay's immediate right?

- (A) Calvin and Gaurav are sitting together.
- (B) Gaurav is sitting in a corner seat.
- (C) Abhay has only one neighbour.
- (D) Calvin is sitting at the 5th position.

Q158 Read the given question and decide which of the following options is additionally required to answer the question?

Question:

The students of a school received their final exam results. All the students had passed the exam and each one secured a unique rank. Bhavna secured 5th rank and had 2 girls ahead of her and 7 boys behind her. What is the total number of students in the class?

- (A) 6 girls were behind Bhavna.
- (B) The class has a total of 9 boys.
- (C) There were 2 boys ahead of Bhavna.
- (D) There are more boys behind Bhavna than ahead of her.

Q157 दिए गए प्रश्न को पढ़ें और निर्णय लें कि प्रश्न का उत्तर देने के लिए निम्नलिखित में कौन सा विकल्प अतिरिक्त रूप से आवश्यक है?

प्रश्न :

छह दोस्त सिनेमा हॉल में स्क्रीन के सामने सीधी पंक्ति में बैठे हैं। अभय एक छोर पर बैठा है। विनय न तो दीपक और न ही गौतम के बगल में बैठा है। कैल्विन गौतम के ठीक बगल में बैठा है। अभय विनय के ठीक दाईं ओर बैठा है। विनय के ठीक दाईं ओर कौन बैठा है?

- (A) कैल्विन और गौरव एक साथ बैठे हैं।
- (B) गौरव किनारे के सीट पर बैठा है।
- (C) अभय के पास केवल एक लोग बैठे हैं।
- (D) कैल्विन 5 वें स्थान पर बैठा है।

Q158 दिए गए प्रश्न को पढ़ें और निर्णय लें कि प्रश्न का उत्तर देने के लिए निम्नलिखित में कौन सा विकल्प अतिरिक्त रूप से आवश्यक है?

प्रश्न :

स्कूल के छात्रों को फाइनल परीक्षा का परिणाम प्राप्त हुआ। सभी छात्रों ने परीक्षा उत्तीर्ण की और सभी ने अच्छी रैंक प्राप्त किया। भावना ने 5 वीं रैंक प्राप्त की और 2 लड़कियों ने उससे ज्यादा और 7 लड़के ने उनसे कम अंक प्राप्त किया था। कक्षा में छात्रों की कुल संख्या क्या है?

- (A) 6 लड़कियों ने भावना से कम अंक प्राप्त किया था।
- (B) कक्षा में कुल 9 लड़के हैं।
- (C) 2 लड़कों ने भावना से अधिक अंक प्राप्त किया था।
- (D) उसकी तुलना में कई लड़को ने भावना से कम अंक प्राप्त किया है।

Q159 A question is given below, followed by two statements, marked I and II. Identify which of the statements is/are necessary/sufficient to answer the question.

Question:

What is the code for 'is' in the code language?

Statements:

- I. In the code language, 'nik fe pa' means 'ball is red'.
- II. In the same code language, 'Pa ne min' means 'this is beautiful'.
- (A) Data in statement I alone is sufficient to answer the question.
- (B) Data in statement II alone is sufficient to answer the question.
- (C) Data either in statement I alone or in II alone is sufficient to answer the question.
- (D) Data in both statements I and II together are necessary to answer the question.

Q160 Choose the inference, given in the options, that can logically be drawn from the given statements.

Statements:

All historians are singers.
All singers are musicians.
No actor is a musician.

Inferences:

- (A) No historian is a musician.
- (B) All singers are actors
- (C) Some actors are singers
- (D) No actor is a historian.

Q161 Select the option that is related to the third term in the same way as the second term is related to the first one.

NQVK : OPWJ :: CGUW : ?

- (A) DHVX
- (B) DFVV
- (C) EGWY
- (D) BDTW

Q159 दो कथन, चिह्नित I और II के बाद, नीचे एक प्रश्न दिया गया है।

यह बताएं कि प्रश्न का उत्तर देने के लिए कौन सा कथन आवश्यक/सही है।

प्रश्न :

कूटभाषा में 'is' के लिए कोड क्या है?

कथन:

- I. कूटभाषा में, 'nik fe pa' का अर्थ 'गेंद लाल है'।
- II. उसी कोड भाषा में, 'Pa ne min' का अर्थ है 'यह सुंदर है'।
- (A) प्रश्न का उत्तर देने के लिए केवल कथन I में आंकड़ा सही है।
- (B) प्रश्न का उत्तर देने के लिए केवल कथन II में आंकड़ा सही है।
- (C) या तो केवल I या केवल II में कथन में आंकड़ा प्रश्न का उत्तर देने के लिए सही है।
- (D) प्रश्न का उत्तर देने के लिए I और II दोनों कथनों में आंकड़ा आवश्यक है।

Q160 विकल्प में दिए गए अनुमान चुनें, जो तर्कसंगत रूप से दिए गए कथन से लिए जा सकते हैं।

कथन :

सभी इतिहासकार गायक हैं।
सभी गायक संगीतकार हैं।
कोई अभिनेता संगीतकार नहीं है।

अनुमान :

- (A) कोई इतिहासकार संगीतकार नहीं है।
- (B) सभी गायक अभिनेता हैं
- (C) कुछ अभिनेता गायक हैं
- (D) कोई अभिनेता इतिहासकार नहीं है।

Q161 उस विकल्प का चयन करें जिसका तीसरे शब्द से वही संबंध है, जैसा कि दूसरे शब्द से पहले का है।
NQVK : OPWJ :: CGUW : ?

- (A) DHVX
- (B) DFVV
- (C) EGWY
- (D) BDTW

Q162 If the day after tomorrow is Thursday, then what day was it two days before the day before yesterday?

(A) Tuesday
(B) Friday
(C) Saturday
(D) Sunday

Q162 यदि कल के बाद का दिन गुरुवार है, तो कल से दो दिन पहले यह दिन क्या था?

(A) मंगलवार
(B) शुक्रवार
(C) शनिवार
(D) रविवार

Q163 Select the one which is different from the other three options.

(A) Tailor : Needle
(B) Author : Book
(C) Carpenter : Furniture
(D) Cobbler : Shoes

Q163 उसका चयन करें जो अन्य तीन विकल्पों से अलग है।

(A) दर्जी : सुई
(B) लेखक : किताब
(C) बढ़ई : फर्नीचर
(D) मोची : जूते

Q164 Select the option that will correctly complete the given series.

1, 2, 6, 15, 31, ?, 92

(A) 48
(B) 56
(C) 64
(D) 72

Q164 उस विकल्प का चयन करें जो दिए गए श्रृंखला को सही ढंग से पूरा करेगा।

1, 2, 6, 15, 31, ?, 92

(A) 48
(B) 56
(C) 64
(D) 72

Q165 In a certain language, C is written as 5 and CEAT is written as 37, then CHINA will be written as:

(A) 56
(B) 64
(C) 45
(D) 42

Q165 एक निश्चित भाषा में C को 5 और CEAT को 37 लिखा जाता है, तो CHINA को क्या लिखा जाएगा:

(A) 56
(B) 64
(C) 45
(D) 42

Q166 The following table gives the sales of LCD TVs manufactured by a company over the years since its inception.

Number of Different Sizes of LCD TVs Sold by a Company Over the Years (Numbers in Thousands)

Year	Size of LCDs in Inches						
	40"	50"	55"	60"	65"	70"	75"
2012	32	24	11	26	11	8	7
2013	43	35	34	38	13	11	6
2014	54	46	46	47	11	12	8
2015	45	53	51	39	21	18	11
2016	56	42	49	42	24	14	14
2017	47	38	54	55	31	21	16

What is the difference between the total number of LCD TVs of 50" and 70" sold?

- (A) 111
- (B) 98
- (C) 154
- (D) 125

Q167 Read the statement below followed by two conclusions and decide which of the assumptions is implicit from the statement.

Statement:

Better an "oops" than a "what if".

Assumptions:

- I. It's better to fail rather than not try.
 - II. If you fail, you will get the experience.
- (A) Only assumption I is implicit
 - (B) Only assumption II is implicit
 - (C) Either assumption I or II is implicit
 - (D) Both assumptions I and II are implicit

Q166 निम्नलिखित तालिका इसकी शुरुआत के बाद के वर्षों में कंपनी द्वारा निर्मित एलसीडी टीवी की बिक्री को दर्शाता है।

पिछले कुछ वर्षों में कंपनी द्वारा बेची गई एलसीडी टीवी के विभिन्न साइज़ की संख्या (हजारों में संख्याएं)

वर्ष	एलसीडी का आकार, ईंचों में						
	40"	50"	55"	60"	65"	70"	75"
2012	32	24	11	26	11	8	7
2013	43	35	34	38	13	11	6
2014	54	46	46	47	11	12	8
2015	45	53	51	39	21	18	11
2016	56	42	49	42	24	14	14
2017	47	38	54	55	31	21	16

बेचे जाने वाले 50" और 70" की एलसीडी टीवी की कुल संख्या के बीच क्या अंतर है?

- (A) 111
- (B) 98
- (C) 154
- (D) 125

Q167 दो निष्कर्षों के बाद नीचे दिए गए कथन को पढ़ें और यह बताएं कि कौन सा पूर्वानुमान कथन में निहित है।

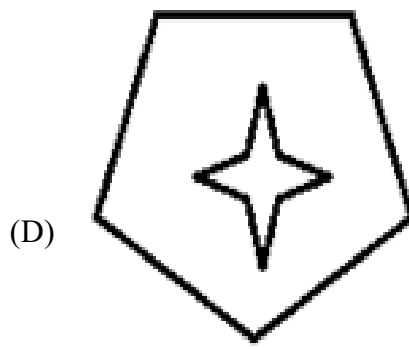
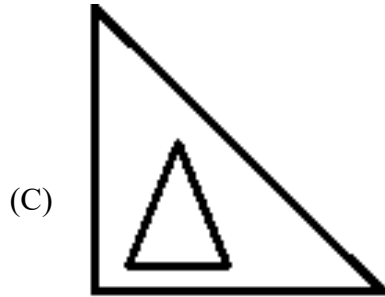
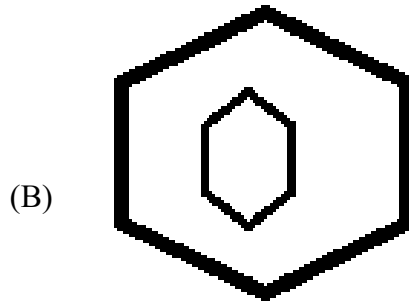
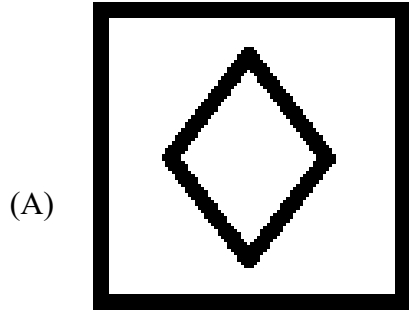
बयान :

"what if" की तुलान में "oops" सही होगा।

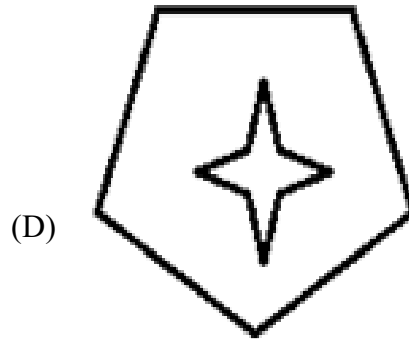
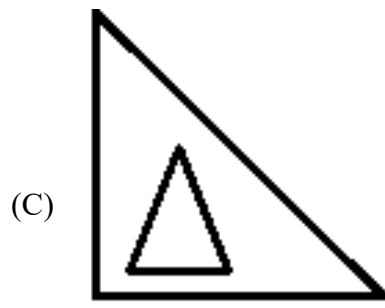
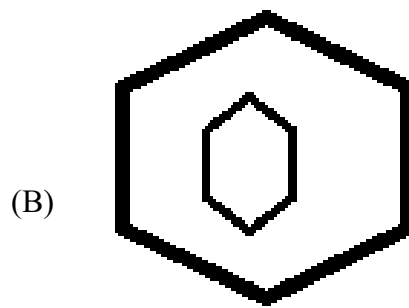
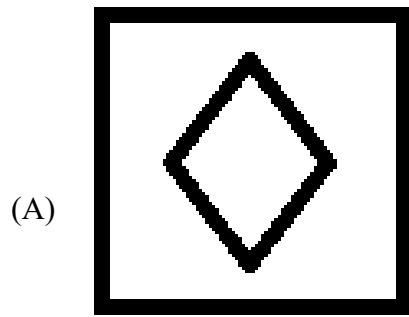
मान्यताओं:

- I. कोशिश करने के बजाय असफल होना बेहतर है।
 - II. यदि आप असफल हो जाते हैं, तो आपको अनुभव मिलेगा।
- (A) केवल धारणा I निहित है
 - (B) केवल धारणा II निहित है
 - (C) या तो धारणा I या II अंतर्निहित है
 - (D) धारणाएं I और II दोनों अंतर्निहित है

Q168 Select the option that is different from the other three.



Q168 निम्नलिखित में उस विकल्प का चयन करें जो अन्य तीनों से भिन्न है।



Q169 Select the option that is different from the other three.

Q169 निम्नलिखित में उस विकल्प का चयन करें जो अन्य तीनों से भिन्न है।

(A)



(A)



(B)



(B)



(C)



(C)



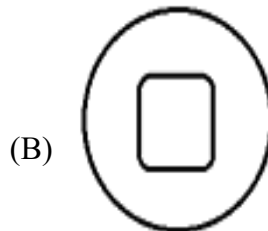
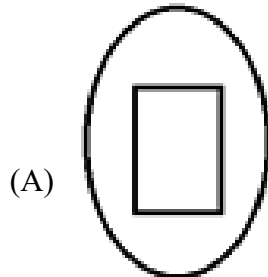
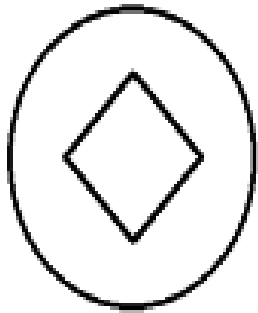
(D)



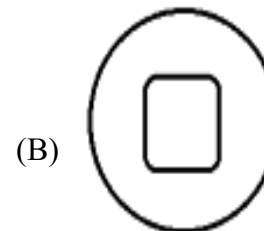
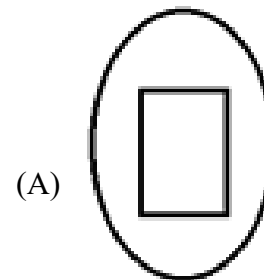
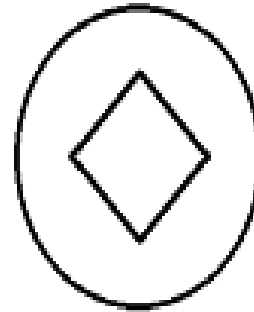
(D)



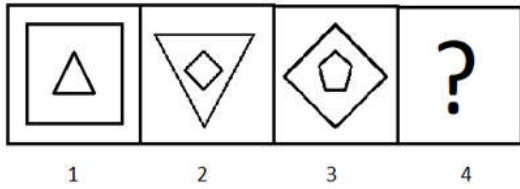
Q170 Select the option that follows the pattern in the figure below and is most similar to it.



Q170 निम्नलिखित में उस विकल्प का चयन करें जो नीचे आकृति में दिए गए प्रतिरूप (पैटर्न) का अनुसरण करता है और उसके अत्यधिक समान है।

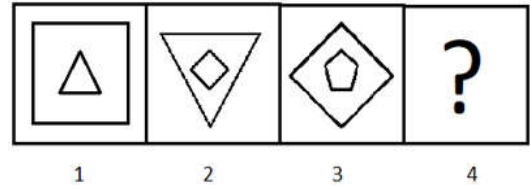


Q171 Select the option that is related to figure 3 in the same way as figure 2 is related to figure 1.



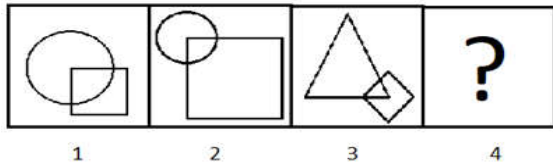
- (A)
- (B)
- (C)
- (D)

Q171 नीचे दी गई कौन सी विकल्प आकृति 3 से उसी प्रकार संबंधित है जैसेकि आकृति 2, आकृति 1 से संबंधित है।



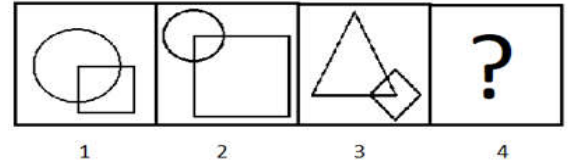
- (A)
- (B)
- (C)
- (D)

Q172 Select the option that is related to figure 3 in the same way as figure 2 is related to figure 1.



- (A)
- (B)
- (C)
- (D)

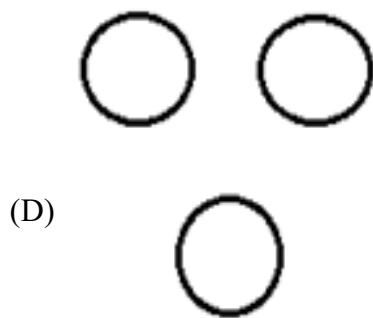
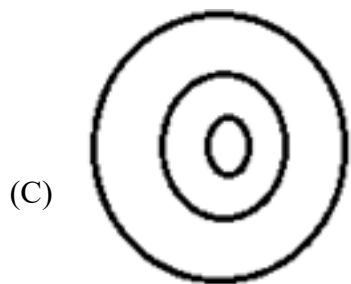
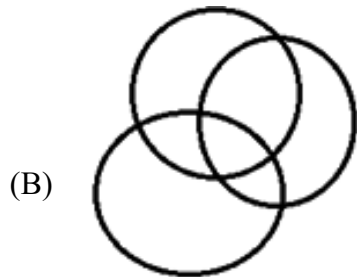
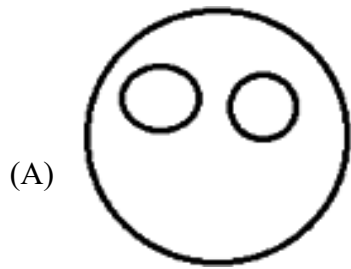
Q172 नीचे दी गई कौन सी विकल्प आकृति 3 से उसी प्रकार संबंधित है जैसेकि आकृति 2, आकृति 1 से संबंधित है।



- (A)
- (B)
- (C)
- (D)

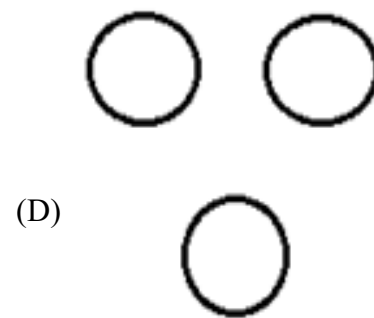
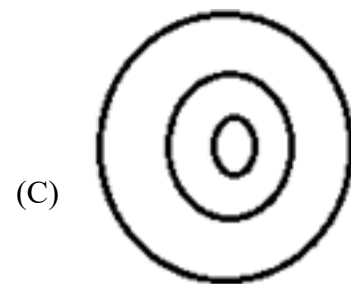
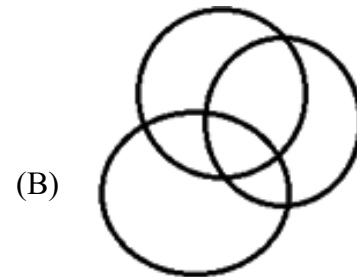
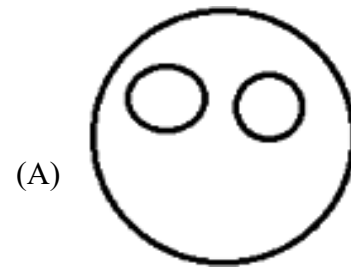
Q173 Select the Venn Diagram given in the options that correctly represents the relation between the classes given below.

Tools, Hammer, Pliers

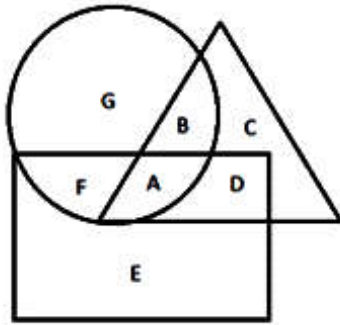


Q173 नीचे दिए गए विकल्पों में उस वेन रेखाचित्र का चयन करें जो नीचे दी गई श्रेणियों के बीच संबंध का सही रूप में प्रतिनिधित्व करता है।

उपकरण, हथौड़ा, चिमटा

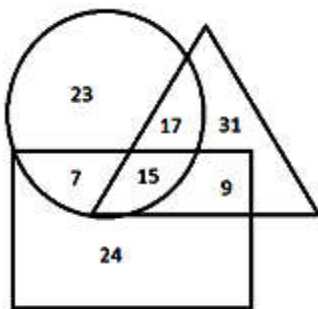


Q174 In the figure given below, the triangle represents car owners, the rectangle represents scooter owners and the circle represents bicycle owners. Select the letter that represents people who own a car as well as a scooter but not a bicycle.



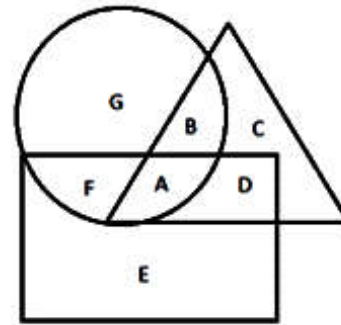
- (A) A
- (B) B
- (C) C
- (D) D

Q175 The Venn diagram given below shows the number of students of a school and the games they play. The triangle represents basketball players, the rectangle represents chess players and the circle represents kabaddi players. How many students play exactly two games?



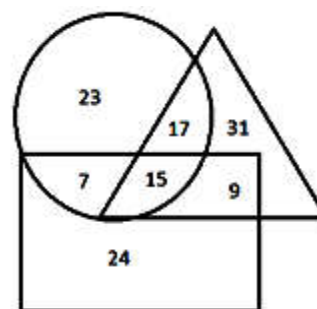
- (A) 30
- (B) 33
- (C) 35
- (D) 48

Q174 नीचे दी गई आकृति में त्रिकोण कार के मालिकों, आयत स्कूटर के मालिकों और वृत्त साइकिल के मालिकों का प्रतिनिधित्व करते हैं। इनमें से उस अक्षर का चयन करें जो उन लोगों का प्रतिनिधित्व करता है जिनके पास कार के साथ-साथ स्कूटर है लेकिन साइकिल नहीं है।



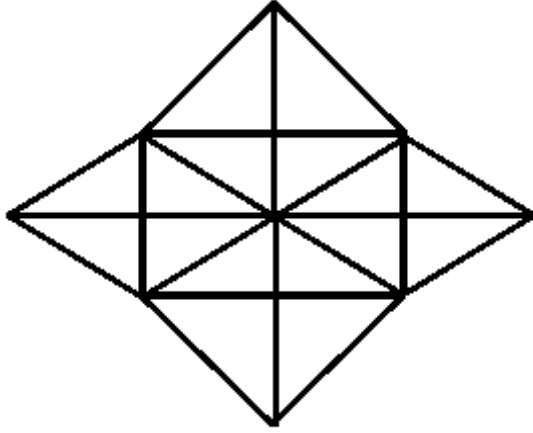
- (A) A
- (B) B
- (C) C
- (D) D

Q175 नीचे दिया गया वेन रेखाचित्र एक विद्यालय के छात्रों की संख्या और उनके द्वारा खेले जाने वाले खेल दर्शाता है। त्रिकोण बास्केट बॉल के खिलाड़ियों आयत शतरंज के खिलाड़ियों और वृत्त कबड्डी के खिलाड़ियों का प्रतिनिधित्व करते हैं। कितने छात्र ठीक-ठीक दो खेल खेलते हैं?



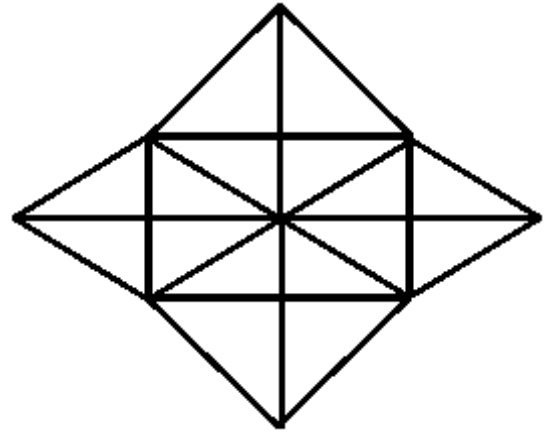
- (A) 30
- (B) 33
- (C) 35
- (D) 48

Q176 What is the total number of triangles in the given figure?



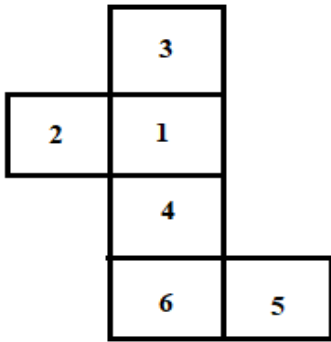
- (A) 36 (B) 32
(C) 24 (D) 40

Q176 नीचे दी गई आकृति में कितने त्रिकोण हैं?



- (A) 36 (B) 32
(C) 24 (D) 40

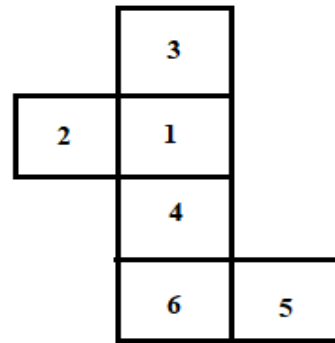
Q177 A sheet of paper (as shown below) bears numbers from 1 to 6 on one side and is blank on the other side. The sheet is folded to form a die, such that the side with the numbers is on the outside.



Which of the given options correctly represents this cube?

- (A) (B)
(C) (D)

Q177 कागज़ की शीट (नीचे दर्शायी गई) के एक तरफ 1 से 6 तक संख्या लिखी गई है जो दूसरी तरफ से कोरी (ब्लैंक) है। यह शीट मोड़कर पासा (डाई) बनाई जाती है जिसमें बाहर की तरफ ये संख्याएं रहती हैं।



नीचे दिया गया कौन सा विकल्प इस घन (क्यूब) का ठीक तरह से प्रतिनिधित्व करता है?

- (A) (B)
(C) (D)

Q178 Suman goes from her home to her friend's home. She starts by walking 5 metres towards the east. She then turns right and walks for 5 metres. Then, she turns 90° clock-wise and walks for 5 metres. Finally, she turns left and walks for 5 metres to reach her friend's home. What is the shortest distance between Suman's home and her friend's home?

(A) 5 metres (B) 10 metres
(C) 15 metres (D) 20 metres

Q179 Navin and Utsavi leave for their schools together. They both start walking towards the north. After walking for 500 metres, they turn right and continue for 300 metres to reach a traffic signal. From there, Navin turns right and continues for 300 metres straight to reach his school; and Utsavi turns left and walks for 500 metres straight, then turns right and walks for 600 metres to reach her school. What is the shortest distance between the two schools?

(A) 850 metres (B) 1.25 km
(C) 1 km (D) 700 metres

Q180 A political leader, M, is hopeful that he will receive at least 30% more votes in the ongoing elections than he received in the last elections. In the last elections, he received 700 votes whereas his opponent, S, received 900 votes. The total number of voters in this election is the same as that in the previous one. Which one of the conclusions given in the options below can be drawn logically and definitely from the statement above?

(A) M will get 220 more votes than S in this election.
(B) The vote margin between the two leaders has shrunk.
(C) S will get 210 fewer votes than M in this election.
(D) M will get 220 more votes than he got in the previous elections.

Q178 सुमन अपने घर से अपने मित्र के घर जाती है। वह पूर्व दिशा की ओर 5 metre पैदल चलती है। उसके बाद वह दायें मुड़कर 5 metre चलती है। फिर वह 90° घड़ी चलने की दिशा में (क्लॉक-वाइज़) मुड़कर 5 metre चलती है। अन्त में वह बायें मुड़कर है और अपने मित्र के घर पहुंचने के लिए 5 metre चलती है। सुमन के घर और उसके मित्र के घर के बीच की न्यमनतम दूरी कितनी है?

(A) 5 metres (B) 10 metres
(C) 15 metres (D) 20 metres

Q179 नवीन और उत्सवी दोनों अपने विद्यालय जाने के लिए एक-साथ निकलते हैं। वे दोनों उत्तर की ओर पैदल चलना शुरू करते हैं। 500 metre चलने के बाद वे दायें मुड़ते हैं और 300 metre चलकर ट्रैफिक सिग्नल पर पहुंचते हैं। वहां से नवीन दायें मुड़ता है और अपने विद्यालय पहुंचने के लिए 300 metre सीधा चलता है; और उत्सवी बायें मुड़ती है एवं 500 metre सीधा चलती है, फिर दायें मुड़ती है 600 metre और चलकर अपने विद्यालय पहुंचती है। इन दो विद्यालयों के बीच न्यूनतम दूरी कितनी है?

(A) 850 metres (B) 1.25 km
(C) 1 km (D) 700 metres

Q180 एक राजनैतिक नेता M से आशा है कि वह पिछले चुनाव में प्राप्त मतों (वोट) से इस (चालू) चुनाव में न्यूनतम 30% अधिक मत प्राप्त करेगा। पिछले चुनाव में उसने 700 मत प्राप्त किए थे जबकि उसके विरोधी S ने 900 वोट प्राप्त किए थे। इस चुनाव में मतों की कुल संख्या पिछले चुनाव के बराबर है। नीचे दिए गए विकल्पों में कौन सा निष्कर्ष उपर्युक्त विवरण से तार्किक रूप से एवं निश्चित रूप से मेल खाता है?

(A) इस चुनाव में M, S से 220 मत अधिक प्राप्त करेगा।
(B) इन दोनों नेताओं में मतों का अंतर कम हो गया है।
(C) इस चुनाव में S, M से 210 मत कम प्राप्त करेगा।
(D) M पिछले चुनाव से 220 मत अधिक प्राप्त करेगा।